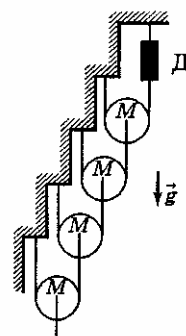


ЗОНАЛЬНАЯ ОЛИМПИАДА

9 КЛАСС. 1999 г.

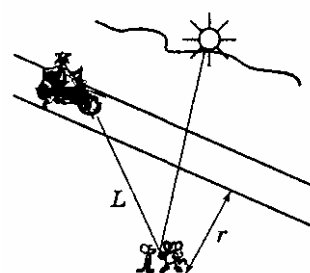
Условия задач.

58. Из легких нитей и одинаковых блоков массой M каждый собрана полу бесконечная система (рис. 38.). Найдите силу F , которую показывает динамометр D .



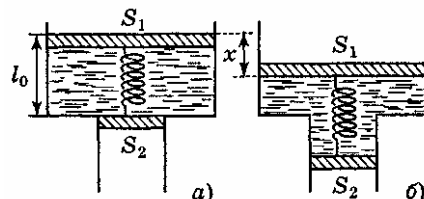
59. Только взошло Солнце. По ровной дороге на велосипеде едет со скоростью v_0 кот Леопольд. А в это время на расстоянии r от дороги и L от кота два озорных мышонка пытаются при помощи осколка

зеркальца попасть «солнечным зайчиком» Леопольду прямо в глаз (рис.). Найдите, с какой угловой скоростью ω мышата должны поворачивать зеркальце, чтобы слепить кота.



Примечание. Угловая скорость $\omega = \Delta\varphi/\Delta t$, где $\Delta\varphi$ – угол поворота зеркала за малое время Δt .

60. В вертикально расположенных цилиндрах, площади сечений которых S_1 и S_2 , находятся два невесомых поршня, соединенных невесомой пружиной жесткостью k . Пространство между поршнями заполнено водой. Нижний поршень (площадью S_2) в начальном состоянии поддерживается так, что пружина не напряжена, ее длина при этом равна l_0 (рис. а). Затем поршень площадью S_2 отпускают, и оба поршня опускаются (рис. б). На какое расстояние x сместится поршень площадью S_1 ? Изобразите графически зависимость x от жесткости k пружины. Оба цилиндра сообщаются с атмосферой.



61. Из точек A и B , находящихся на одной горизонтальной прямой, одновременно бросили два камня с одинаковыми по модулю скоростями $v_0 = 20$ м/с. Один из них полетел по навесной траектории, а другой по настильной и каждый упал в точку старта другого камня. Известно, что угол бросания α камня из точки A составляет 75° (рис.). Через какое время после бросания расстояние между камнями станет минимальным? Чему равно это расстояние? Укажите на рисунке положения камней в этот момент.




ВСЕРОССИЙСКАЯ ОЛИМПИАДА

9 класс. 1999 г.

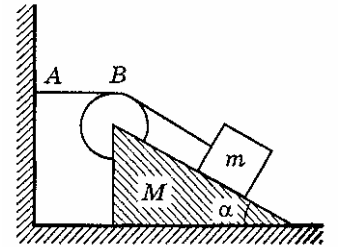
Условия задач.

62. Кот Леопольд сидел у края крыши. Два озорных мышонка выстрелили в него камнем из рогатки. Камень, описав дугу, упал у ног кота (рис.) через время $\tau = 1$ с. На каком расстоянии S от мышей находился кот Леопольд, если векторы скоростей камня в момент выстрела и в момент падения были

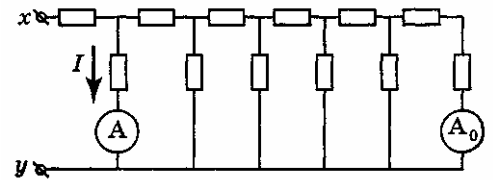


взаимно перпендикулярны?

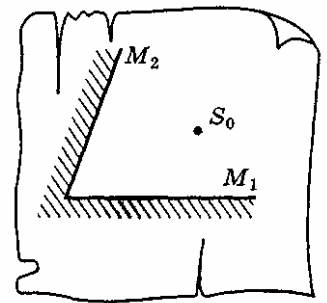
63. На гладком горизонтальном полу находится клин массой M с углом наклона α при основании (рис.). На поверхности клина расположен брусок массой m , привязанный легкой нитью к стене. Нить перекинута через невесомый блок, укрепленный на вершине клина. Отрезок нити AB параллелен горизонтальной поверхности пола. Вначале систему удерживают, а затем отпускают, и брусок начинает скользить по наклонной поверхности клина. Силы трения отсутствуют. 1. Найдите ускорение клина в этом случае. 2. Полагая α заданным, найдите, при каком отношении масс клина и бруска такое скольжение возможно.



64. На рисунке изображена электрическая цепь, состоящая из шести одинаковых звеньев. Все резисторы в цепи одинаковы и имеют сопротивление r . В первое и последнее звенья цепи включены амперметры A и A_0 . На входные клеммы x и y цепи подано постоянное напряжение U_{xy} , при этом амперметр A показывает ток $I = 8,9$ А. 1. Какой ток I_0 показывает амперметр A_0 . 2. Определите напряжение U_{xy} , поданное на входные клеммы цепи при условии $r = 1$ Ом. 3. Определите для этого случая электрическое сопротивление R_{xy} между клеммами x и y .



65. В архиве Снеллиуса нашли чертеж, на котором были изображены два плоских зеркала M_1 и M_2 , образующих двугранный угол в 70° , и точечный источник света S_0 (рис.). От времени чернила выцвели, и невозможно было разглядеть, сколько изображений источника S_0 давала такая система зеркал. Попробуйте восстановить все изображения источника S_0 . Сколько изображений источника S_0 можно было увидеть в такой системе зеркал?



Решения задач.

Решение 58. Заметим, что если удалить крайний правый блок, получится система, эквивалентная исходной. Иными словами $F_1 = F$ (рис. 47). Условие равновесия первого блока:

$$2F = Mg + F_1 = Mg + F.$$

Отсюда $F = Mg$.

Решение 59. Пусть за время Δt зеркальце повернулось на угол $\Delta\phi$. Тогда луч света за это же время повернется на угол (рис. 48)

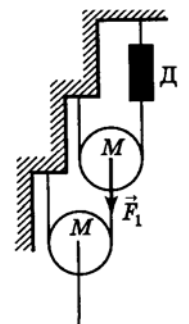


Рис. 47

$$\Delta\alpha = 2\Delta\varphi, \Delta\alpha \approx \frac{(v_o\Delta t)\cos\alpha}{L}.$$

Здесь $\cos\alpha = \frac{r}{L}$.

Получим

$$\frac{(v_o\Delta t)_r}{L^2} = 2\Delta\varphi,$$

откуда $\omega = \frac{\Delta\varphi}{\Delta t} = \frac{v_o r}{2L^2}$.

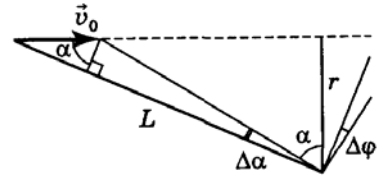


Рис. 48

Решение 60. Из условия равновесия поршней

$$p_o S_1 + T = p S_1, p_o S_2 + T = (p + \rho g l) S_2$$

находим силу натяжения пружины

$$T = \frac{\rho g l S_1 S_2}{S_1 - S_2},$$

здесь l – длина недеформированной пружины $T = l(l - l_o)$, откуда

$$l = \frac{k(S_1 - S_2)}{k(S_1 - S_2) - \rho g S_1 S_2} l_o.$$

Удлинение пружины

$$\Delta l = l - l_o = \frac{\rho g S_1 S_2}{k(S_1 - S_2) - \rho g S_1 S_2} l_o, \quad (1)$$

оно равно разности перемещений первого x_1 и второго x_2 поршней:

$$\Delta l = x_2 - x_1 = \frac{S_1}{S_2} x_1 - x_1 = x_1 \frac{S_1 - S_2}{S_2}. \quad (2)$$

Из (1) и (2) следует

$$x = \frac{\rho g S_1 S_2^2}{k(S_1 - S_2)^2 - \rho g S_1 S_2 (S_1 - S_2)} l_o. \quad (3)$$

Это и есть зависимость $x(k)$.

Жесткость пружины, при которой верхний поршень «ляжет» на стык цилиндров, найдем из условия $x_o = l_o$:

$$k_o = \frac{\rho g S_1^2 S_2}{(S_1 - S_2)^2}.$$

Если в (3) знаменатель устремить к нулю, то это произойдет при $k \rightarrow k_1$, где

$$k_1 = \frac{\rho g S_1 S_2}{S_1 - S_2} \text{ – вертикальная асимптота.}$$

Строим зависимость $x(k)$; это кривая 1 на рис. 49; зависимость $x_2(k)$ показана на кривой 2.

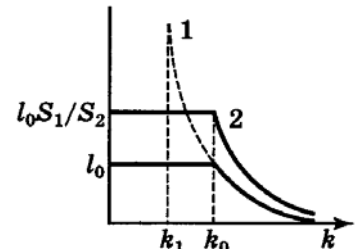


Рис. 49

Решение 61. Рассмотрим полет камня, брошенного из точки A . В проекции на вертикальную ось

$$(v_o \sin \alpha)t - \frac{gt^2}{2} = 0,$$

откуда время полета

$$t = \frac{2v_o \sin \alpha}{g}.$$

Расстояние L между точками A и B равно

$$L = tv_o \cos \alpha = \frac{v_o^2 \sin 2\alpha}{g} = 20 \text{ м.}$$

Поскольку для камня, брошенного из точки B , можно аналогичным образом написать

$$L = \frac{v_o^2 \sin 2\beta}{g},$$

то мы получим $\sin 2\alpha = \sin 2\beta$, и, так как по условию $\alpha \neq \beta$, то $2\alpha = \pi - 2\beta$, т. е.

$$\alpha + \beta = \frac{\pi}{2}.$$

Далее удобно перейти в систему отсчета, в которой камни движутся равномерно.

В качестве тела отсчета выберем камень, вылетевший из точки A . Так как $\vec{v}_1 \perp \vec{v}_2$, $v_1 = v_2 = v_o$, то вектор $\vec{v}_{\text{отн}}$ есть диагональ квадрата, построенного на векторах \vec{v}_2 и $-\vec{v}_1$. Поэтому $v_{\text{отн}} = \sqrt{2}v_o$. Из рис. 50 видно, что AC – кратчайшее расстояние между камнями. Найдем его: $\delta = \alpha - 45^\circ = 30^\circ$ и, следовательно,

$$AC = \frac{1}{2}L = 10 \text{ м.}$$

Время, через которое расстояние между камнями станет минимальным, равно

$$t_x = \frac{AC}{v_{\text{отн}} \cos \delta} = \frac{10\sqrt{3}}{20\sqrt{2}} \approx 0,61 \text{ с.}$$

Положение камней можно найти параллельным переносом отрезка AC до тех пор, пока его начало и конец не окажутся лежащими на навесной и настильной траекториях камней (рис. 51), при этом $A'C' = AC$.

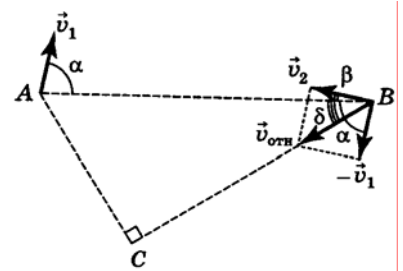


Рис. 50

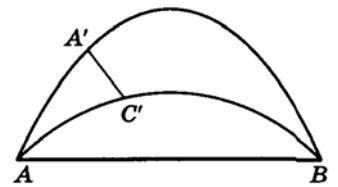


Рис. 51

Решение 62. При движении камня в поле тяготения

$$\vec{v}_\tau = \vec{v}_o + \vec{g}t, \quad (1)$$

где t – время от начала движения камня (рис. 52, а).

Вектор перемещения камня

$$\vec{S}(t) = \vec{v}_o t + \frac{\vec{g}t^2}{2} = \frac{2\vec{v}_o + \vec{g}t}{2} t = \frac{\vec{v}_o + (+\vec{g}t)}{2} t = \frac{\vec{v}_o + \vec{v}_t}{2} t.$$

Тогда для момента τ найдем перемещение камня

$$|\vec{S}(\tau)| = \left| \frac{\vec{v}_o + \vec{v}_k}{2} \right| \tau. \quad (2)$$

Из рис. 52, б видим, что в силу перпендикулярности векторов \vec{v}_o и \vec{v}_k (как диагонали прямоугольника)

$$|\vec{v}_o + \vec{v}_k| = |\vec{v}_k - \vec{v}_o| = g\tau. \quad (3)$$

Подставив (3) в (2), находим

$$|\vec{S}| = \frac{g\tau^2}{2}, \quad S \approx 5 \text{ м.}$$

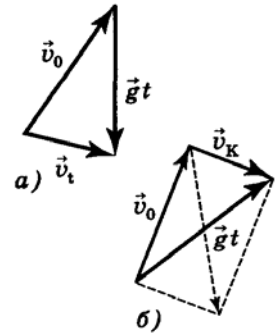


Рис. 52

Решение 63. 1. Силы, действующие на брусок и клин, показаны на рис. 53, причем $|\vec{T}_1| = |\vec{T}_2| = |\vec{T}_3| = T$. Обозначив ускорение клина через a_1 . Запишем уравнения движения тел в системе координат xOy :

для клина по Ox с учетом равенства реакций опоры

$$|\vec{N}'| = |\vec{N}'|:$$

$$T(1 - \cos \alpha) + N \sin \alpha = Ma_1; \quad (1)$$

Для бруска по оси Ox :

$$T \cos \alpha - N \sin \alpha = ma_x; \quad (2)$$

Для бруска по оси Oy :

$$mg - T \sin \alpha - N \cos \alpha = ma_y. \quad (3)$$

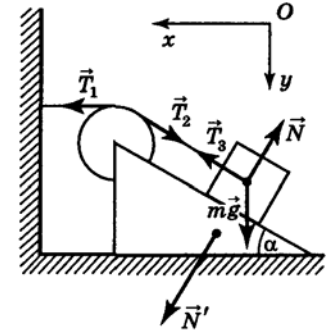


Рис. 53

Здесь a_x и a_y – проекции вектора ускорения бруска на координатные оси.

Связь между ускорением клина и ускорением бруска можно установить, используя кинематические соображения. Пусть клин сместится на l влево. Тогда брусок, движущийся по клину, сместится на l вдоль наклонной плоскости и одновременно на расстояние l влево вместе с клином. Отсюда получим:

$$a_x = a_1(1 - \cos \alpha), \quad a_y = a_1 \sin \alpha.$$

Тогда система уравнений (1) – (3) примет вид:

$$\left. \begin{aligned} T(1 - \cos \alpha) + N \sin \alpha &= Ma_1, \\ T \cos \alpha - N \sin \alpha &= ma_1(1 - \cos \alpha), \\ mg - T \sin \alpha - N \cos \alpha &= ma_1 \sin \alpha, \end{aligned} \right\} \quad (4)$$

откуда

$$a_1 = \frac{mg \sin \alpha}{M + 2m(1 - \cos \alpha)}.$$

2. Рассмотренное движение возможно, если $N > 0$. Находя N из уравнений (4), получим условие:

$$\frac{M}{m} > \frac{(1 - \cos \alpha)^2}{\cos \alpha}.$$

Решение 64. 1. Последовательно рассмотрим все токи и напряжения на элементах цепи, начиная с последнего звена (рис. 54). Обозначим силу тока в последнем звене через I_0 . Тогда напряжение на участке cd будет равно $2rI_0$, а сила

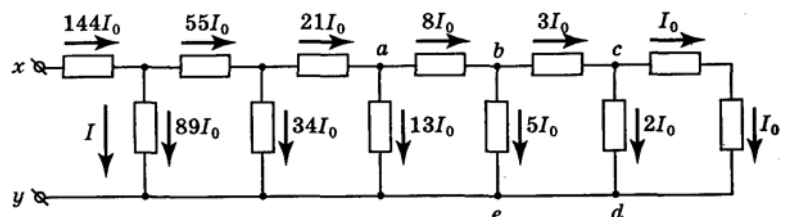


Рис. 54

тока на этом участке будет равна $2I_0$.

Следовательно, сила тока на участке bc равна $3I_0$, а напряжение на участке be равно $5rI_0$. Далее находим, что сила тока на участке be равна $5I_0$, а на участке ab – $8I_0$ и т. д. Рассуждая аналогично, получаем $I = 89I_0$, а следовательно, $I_0 = 0,1$ А.

2. Находим напряжение U_{xy} на входе цепочки:

$$U_{xy} = (144 + 89)rI_0 = 23,3 \text{ В.}$$

3. Сопротивление R_{xy} между клеммами x и y равно

$$R_{xy} = \frac{U_{xy}}{144I_0} = \frac{23,3}{14,4} = 1,62 \text{ Ом.}$$

Решение 65. В плоском зеркале изображение точечного источника расположено симметрично этому источнику относительно плоскости зеркала. Если получившееся изображение окажется с отражающей стороны другого зеркала – оно дает еще одно изображение и т. д. В данном случае все изображения лежат на окружности радиуса R , проведенного из точки O пересечения плоскостей зеркал через S_0 (рис. 55):

S_1 – изображение точечного источника S_0 в зеркале M_1 ;

S_{12} – изображение мнимого источника S_1 в зеркале M_2 ;

S_{121} – изображение источника S_{12} в зеркале M_1 .

Источник S_{121} не может дать изображение, так как он лежит с обратной (не отражающей) стороны зеркала M_2 (и, разумеется, M_1);

S_2 – мнимое изображение точечного источника S_0 в зеркале M_2 ;

S_{21} – изображение источника S_2 в зеркале M_1 .

Мы видим, что источник S_{21} оказался с обратной (не отражающей) стороны зеркала M_2 , поэтому он тоже не может дать изображений.

Следовательно, в зеркалах можно увидеть 5 изображений источника S_0 . Вообще говоря, любое изображение, оказавшееся в секторе AOB (он заштрихован), не может более отразиться в зеркалах M_1 и M_2 .

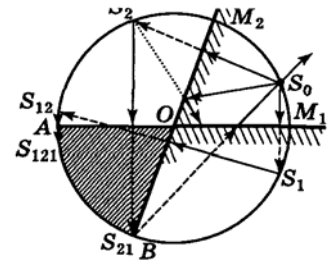


Рис. 55